

**Муниципальное образование «Гурьевский городской округ»**  
**Всероссийская олимпиада школьников по ОБЖ**  
(школьный этап)  
2017-2018 учебный год  
**10-11 класс**

**Максимальное количество баллов - 58 баллов.**

**Время выполнения – 2 астрономический час**

.

**ОЛИМПИАДА по ОБЖ**

**10-11 классы**

**Этап 1. Как я знаю ОБЖ ( количество баллов -32б.) За каждый правильный ответ – 1 балл.**

Выберите правильный ответ.

**1. Приметами хоженной тропы могут быть:**

- а) высокая трава, наличие следов птиц и зверей;
- б) примятая трава, следы от транспорта, следы деятельности человека;
- в) растущие на тропе грибы, ягоды, сломанные ветки.

**2. Как вы будете переправляться, если лед ненадежен, а обойти его нет возможности:**

- а) с шестом, держа его горизонтально на уровне груди;
- б) ползком;
- в) обычным шагом, простукивая лед впереди палкой.

**3. При заблаговременном оповещении о наводнении необходимо:**

- а) открыть окна и двери нижних этажей;
- б) включить телевизор, радио, выслушать сообщения и рекомендации;
- в) перенести на нижние этажи ценные вещи.

**4. Неконтролируемое горение растительности, стихийно распространяющееся по лесной территории, - это:**

- а) стихийный пожар;
- б) природный пожар;
- в) лесной пожар.

**5. РСЧС создана с целью:**

- а) прогнозирования ЧС на территории Российской Федерации и организации проведения аварийно-спасательных и других неотложных работ;
- б) объединения усилий органов власти, организаций и предприятий, их сил и средств в области предупреждения и ликвидации чрезвычайных ситуаций;
- в) обеспечение первоочередного жизнеобеспечения населения, пострадавшего в чрезвычайных ситуациях на территории Российской Федерации.

**6. Если кровотечение сопровождается излиянием крови во внутренние органы, полости и ткани, то оно называется:**

- а) полостным;
- б) внутренним;
- в) закрытым.

**7. Какова последовательность оказания первой помощи при коллапсе:**

- а) пострадавшего уложить на живот, подложив подушку, нижнюю часть туловища и ноги несколько опустить, дать понюхать (вдохнуть) нашатырного спирта, согреть ноги;
- б) пострадавшего уложить на спину, подложив подушку, нижнюю часть туловища и ноги пострадавшего приподнять как можно выше, дать понюхать (вдохнуть) нашатырного спирта, приложить лед к ногам;
- в) пострадавшего уложить на спину, нижнюю часть туловища и ноги пострадавшего несколько приподнять, дать понюхать (вдохнуть) нашатырного спирта, согреть ноги.

**8. Как высушить резиновые сапоги в походе:**

- а) набить сухой травой или бумагой и поставить их недалеко от костра;
- в) вбить в землю около костра колышки и повесить на них сапоги;
- в) вытащить из сапог стельки и протереть внутри досуха тряпкой, поставить сапоги к теплу, но не к открытому огню.

**9. В солнечный полдень тень указывает направление на:**

- а) юг;
- б) север;
- в) запад;
- г) восток.

**10. При внезапном наводнении до прибытия помощи следует:**

- а) оставаться на месте и ждать указаний по телевидению (радио), при этом вывесить белое или цветное полотнище, чтобы вас обнаружили;
- б) быстро занять ближайшее возвышенное место и оставаться там до схода воды, при этом подавать сигналы, позволяющие вас обнаружить;
- в) спуститься на нижний этаж и подавать световые сигналы.

**11. Аммиак – это:**

- а) бесцветный газ с резким запахом, тяжелее воздуха;
- б) газ с удушливым неприятным запахом, напоминающим запах гнилых плодов;
- в) бесцветный газ с резким удушливым запахом, легче воздуха.

**12. Вы играли с друзьями на улице. Вдруг на заводах и предприятиях загудели гудки. В жилом районе включили сирену. Ваши действия:**

- а) немедленно пойти домой и уточнить у родителей или соседей, что произошло в микрорайоне, городе, стране;
- б) пойти домой, включить радио или телевизор на местной программе, выслушать информацию и выполнить содержащиеся в ней указания;
- в) продолжить игру, не обращая внимания на происходящее вокруг вас.

**13. Для приведения в действие огнетушителя ОУ необходимо:**

- а) сорвать пломбу и выдернуть чеку, направить раструб на пламя и нажать на рычаг;
- б) прочистить раструб, нажать на рычаг и направить на пламя;
- в) нажать на рычаг, взяться за раструб рукой, направить на пламя и придерживать до прекращения горения.

**14. Очерёдность обеззараживания при радиоактивном, химическом и бактериологическом заражении: ( написать)**

Что нужно сделать при выходе из зоны заражения

Снимите верхнюю одежду

Примите душ с мылом

Тщательно промойте глаза

Прополощите рот

**15. Чтобы правильно преодолеть реку, следует:**

- а) преодолевать реку вплавь, использовать надувные матрацы и камеры;
- б) выбрать место, где вода выглядит спокойной, и переходить реку вброд, используя надувные камеры;
- в) выбрать удобное место и переходить реку вброд, используя шест или альпеншток.

**16. Вы попали под завал в результате землетрясения, нога была придавлена упавшей конструкцией, но освобождена: шевелить пальцами и ступней ноги можете. В помещении есть немного свободного пространства, но выход заблокирован. Какова очередность ваших действий:**

- а) окажете себе первую помощь, установите подпорки под конструкции над вами, найдете теплые вещи или одеяло, чтобы укрыться, будете кричать, стучать металлическими предметами по трубам, плитам;
- б) окажете себе первую помощь и начнете разгребать завал в сторону выхода из помещения;
- в) установите подпорки под конструкции над вами, попытаетесь подойти к оконному проему, если найдете спички, попытаетесь развести небольшой костер, чтобы согреться и осмотреться вокруг.

**17. Взрыв всегда сопровождается:**

- а) большим количеством выделяемой энергии;
- б) резким повышением температуры;
- в) незначительным дробящим действием.

**18. Если сигнал об угрозе нападения противника застал вас дома, необходимо:**

- а) оставаться дома, плотно закрыв окна и двери;
- б) быстро покинуть здание и спуститься в ближайшее убежище;
- в) покинуть здание и отойти от него на безопасное расстояние.

**19. Какой устав используется на кораблях Военно-Морского Флота (ВМФ) России?**

- а) морской устав;
- б) устав Российского флота Петра I;
- в) такой же как и в сухопутных войсках;
- г) на кораблях внутренняя служба и обязанности должностных лиц дополнительно определяются корабельным уставом (ВМФ).

**20. Допустимая толщина льда при передвижении по нему людей должна быть:**

- а) не менее 10 см;
- б) не менее 5 см;
- в) не менее 15 см.

**21. Укажите самый простой способ обеззараживания воды в полевых условиях из предложенных ниже:**

- а) кипячение воды;

- б) очистка через фильтр из песка, ваты и материи;
- в) очистка через фильтр из песка и материи;

**22. К поражающим факторам взрыва относятся:**

- а) осколочные поля и ударная волна;
- б) высокая температура и волна прорыва;
- в) сильная загазованность местности.

**23. Боевые традиции – это:**

- а) исторически сложившиеся в армии и на флоте и передающиеся из поколения в поколение правила, обычаи и нормы поведения военнослужащих, связанные с образцовым выполнением боевых задач и несением воинской службы;
- б) определенные правила и требования к несению службы и выполнению боевых задач;
- в) специальные нормы, предъявленные к психологическим и нравственным качествам военнослужащего в период прохождения им воинской службы.

**24. Из приведенных волевых качеств определите те, которые необходимы для выполнения воинского долга.**

- а) решительность, выдержка, настойчивость в преодолении препятствий и трудностей, которые возникают в процессе военной службы и мешают ей;
- б) агрессивность, настороженность, терпимость к себе и сослуживцам;
- в) терпимость по отношению к старшим по званию, лояльность по отношению к сослуживцам, непримиримость к неуставным взаимоотношениям.

**25. Преданность своему Отечеству, любовь к Родине, стремление служить ее интересам и защищать ее от врагов – это:**

- а) патриотизм;
- б) героизм;
- в) воинский долг.

**26. Когда гражданин приносит военную присягу в современных условиях?**

- а) когда предложат командиры;
- б) когда захочет;
- в) после прохождения начальной военной подготовки, но не позднее двух месяцев со дня прибытия в воинскую часть

**27. Совершение выдающихся по своему значению действий и требующих от человека (воина) личного мужества, стойкости, готовности к самопожертвованию – это:**

- а) героизм;
- б) мужество;
- в) воинская честь.

**28. На какой срок заключается контракт для поступающих впервые на службу на должности солдат, сержантов и им равных?**

- а) на один год;
- б) на два года;
- в) на три года;
- г) на пять лет.

**29. При закрытом переломе бедра необходимо:**

- а) попытаться определить подвижность ноги, согнув ее в коленном суставе, придать пострадавшему возвышенное положение;
- б) дать обезболивающее средство, положить две шины: длинную, от подмышечной впадины до наружной лодыжки, и короткую, от промежности до внутренней лодыжки;
- в) дать обезболивающее средство, положить шину из подручного материала от подмышечной впадины до коленного сустава.

30. Что Вы можете сказать о военнослужащих, имеющих такие погоны.  
Определить воинское звание



рисунок,  
названия  
частей

31. Глядя на  
напишите  
основных  
автомата.



- 1.
- 2.
- 3.
- 4.
- 5.
- 6.
- 7.
- 8.
- 9.
- 10.

**32. Распределите операции в порядке их выполнения при сборке автомата после неполной разборки (ответ представьте последовательностью букв, например: в, а,..):**

- а) Присоединяют шомпол;
- б) Присоединяют затворную раму с затвором к ствольной коробке;
- в) Присоединяют крышку ствольной коробки;
- г) Присоединяют магазин к автомату;
- д) Присоединяют затвор к затворной раме;
- е) Присоединяют возвратный механизм;
- ж) Присоединяют газовую трубку со ствольной накладкой;
- з) Вкладывают пенал в гнездо приклада;
- и) Спускают курок с боевого взвода.
- к) Ставят курок на предохранитель

**Этап 3. Ситуационная задача. ( количество баллов -10б.)**

На автобусной остановке стоящий рядом мужчина побледнел и упал. Он - без сознания, кожные покровы бледные, с сероватым оттенком; зрачки широкие, на свет не реагируют.

**Выберите правильные ответы и расположите их в порядке очередности выполнения:**

1. Вызвать скорую помощь.
2. Убедиться в отсутствии пульса на сонной артерии и реакции зрачков на свет.
3. Позвать окружающих на помощь.
4. Определить признаки дыхания с помощью ворсинок ваты или зеркала.
5. Нанести прекардиальный удар и приступить к сердечно-легочной реанимации.
6. Попытаться добиться от мужчины, на что он все-таки жалуется.
7. Подробно расспросить окружающих, что предшествовало потере сознания.
8. Повернуть пострадавшего на живот.
9. Приложить к голове холод (целлофановый пакет со снегом или холодной водой).
10. Поднести к носу ватку с нашатырным спиртом.

**Этап 4. Вопросы по правилам пожарной безопасности ( количество баллов -6.)**

**1. В каком из перечисленных примеров могут создаться условия для возникновения процесса горения:**

- а) бензин + кислород воздуха
- б) ткань, смоченная в азотной кислоте + тлеющая сигарета
- в) гранит + кислород воздуха + пламя горелки
- г) дерево + кислород воздуха + факел
- д) ацетон + кислород воздуха + искра от зажигалки

**2. Как вы поступите если на вас загорелась одежда:**

- а) побежите, постараетесь сорвать одежду
- б) остановитесь, упадете, покатитесь, сбивая пламя
- в) завернетесь в одеяло и обмотаетесь плотной тканью

**3. Вы идете вечером и замечаете, что из подвала вашего дома валит дым и из дверей выбегают дети.**

**Ваши действия:**

- а) подойдете и спросите, что там горит
- б) войдете внутрь и посмотрите, что горит
- в) пойдете домой и позвоните в пожарную охрану

**4. Для приведения в действие огнетушителя ОУ необходимо:**

- а) направить раструб на пламя
- б) сорвать пломбу и выдернуть чеку
- в) прочистить раструб
- г) нажать на рычаг
- д) взяться за раструб рукой и придерживать его

Выберите правильные ответы и расположите их по очередности действий.

**5. Как вы думаете большее или меньшее поражение, чем огонь, вызывает кипящая жидкость, попавшая на тело:**

- а) меньшее
- б) большее
- в) не приходилось сталкиваться с этим.

**6. Сжигание мусора на территории предприятия или во дворе :**

- а.)запрещается;
- б.)разрешается, если расстояние от места сжигания до зданий и сооружений более 150 м;
- в.) разрешается в присутствии сотрудника противопожарной службы;
- г.)разрешается, если место сжигания обнесено барьерным ограждением.

## Этап 2


### Вопросы по правилам дорожного движения (максимальное количество баллов -10б.)

#### 1. Где разрешается кататься на санках и лыжах?



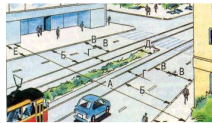
1. По дороге, предназначенной для пешеходов.
2. По правой стороне проезжей части.
3. В специально отведенных местах для массового отдыха, где нет опасности выезда на проезжую часть.

#### 2. Разрешается ли в этой обстановке водителю левого автомобиля продолжать движение через пешеходный переход?



1. Разрешается.
2. Запрещается.

#### 3. Основными элементами дороги в городе являются:



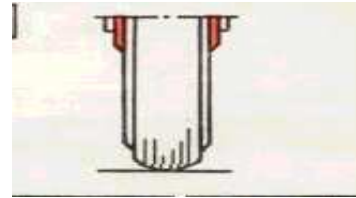
1. Обочина, кювет, тротуар.
2. Пешеходный переход, дорожное ограждение, обочина.
3. Проезжая часть, тротуар, разделительная полоса, трамвайные пути, обочина.

#### 4. Где разрешается водить группы детей в населенном пункте?



1. Только по тротуару или пешеходной дорожке.
2. По краю проезжей части вдоль тротуара.

#### 5. Разрешается ли эксплуатация мопеда, если рисунок протектора его шин полностью стерт?

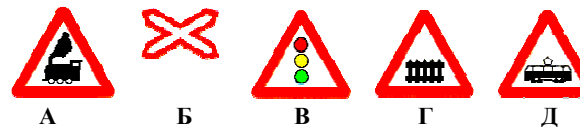


1. Разрешается только в сухую погоду.
2. Разрешается.
3. Не разрешается.

#### 6. Как должны двигаться лица, ведущие мотоцикл, мопед или велосипед, за пределами населенного пункта?

1. По краю проезжей части навстречу движению транспортных средств.
2. По краю проезжей части по ходу движения транспортных средств.
3. По тротуару.
4. По тротуару или велосипедной дорожке

#### 7. Какие знаки предупреждают о приближении к железнодорожному переезду со шлагбаумом?



1. Все знаки.
2. А и Б.
3. А и Д.
4. А и Г
5. В и Г.
6. Г.

#### 8. Если по вине пешехода, произошло ДТП в результате которого были повреждены автомобиль или придорожные постройки, нарушитель наказывается следующим образом:

1. Инспектор ГИБДД предупредит его.
2. Нарушителя оштрафуют.
3. Нарушителя оштрафуют и он должен будет возместить ущерб от ДТП.



9. Имеет ли право водитель мопеда проезжать за этот знак?



1. Имеет право.
2. Не имеет права.

10. Что сказано в ПРАВИЛАХ о переходе дороги, если приближается автомобиль с проблесковым маячком или специальным сигналом?



1. Воздерживаться от выхода на проезжую часть.
2. Можно переходить дорогу, не мешая этому автомобилю.

## БЛАНК ОТВЕТОВ для проверки

### Этап 1. Как я знаю ОБЖ

вопрос	Вариант ответа				вопрос	Вариант ответа				вопрос	Вариант ответа			
1		б			11			в		21	а			
2		б			12		б			22	а			
3		б			13	а				23	а			
4			в		14					24	а			
5		б			15			в		25	а			
6		б			16			в		26			в	
7			в		17	а				27	а			
8			в		18		б			28			в	
9			в		19				г	29		б		
10		б			20	а				30	Старший лейтенант			

### 31 Названия основных частей автомата:

- |  |   |
|--|---|
| <ul style="list-style-type: none"> <li>1. Ствол со ствольной коробкой, прицельным приспособлением и прикладом.</li> <li>2. Крышка ствольной коробки.</li> <li>3. Штык-нож.</li> <li>4. Возвратный механизм.</li> <li>5. Затворная рама с газовым поршнем.</li> </ul> | <ul style="list-style-type: none"> <li>6. Газовая трубка со ствольной накладкой.</li> <li>7. Затвор.</li> <li>8. Шомпол.</li> <li>9. Цевьё.</li> <li>10. Магазин</li> </ul> |
|--|---|

### 32. Порядок выполнения операций при сборке автомата после неполной разборки:

1	2	3	4	5	6	7	8	9	10
ж	д	б	е	в	и	к	а	з	г

### Этап 2. Ответы по правилам дорожного движения

1	2	3	4	5	6	7	8	9	10
3	2	3	1	3	2	6	3	1	1

### Этап 3. Ответы на ситуационную задачу

1	2	3	4	5	6	7	8	9	10
2	5	3	1	9					

### Этап 4. Ответы по правилам пожарной безопасности

1	2	3	4	5	6
БГД	Б	В	БАГ	Б	Б