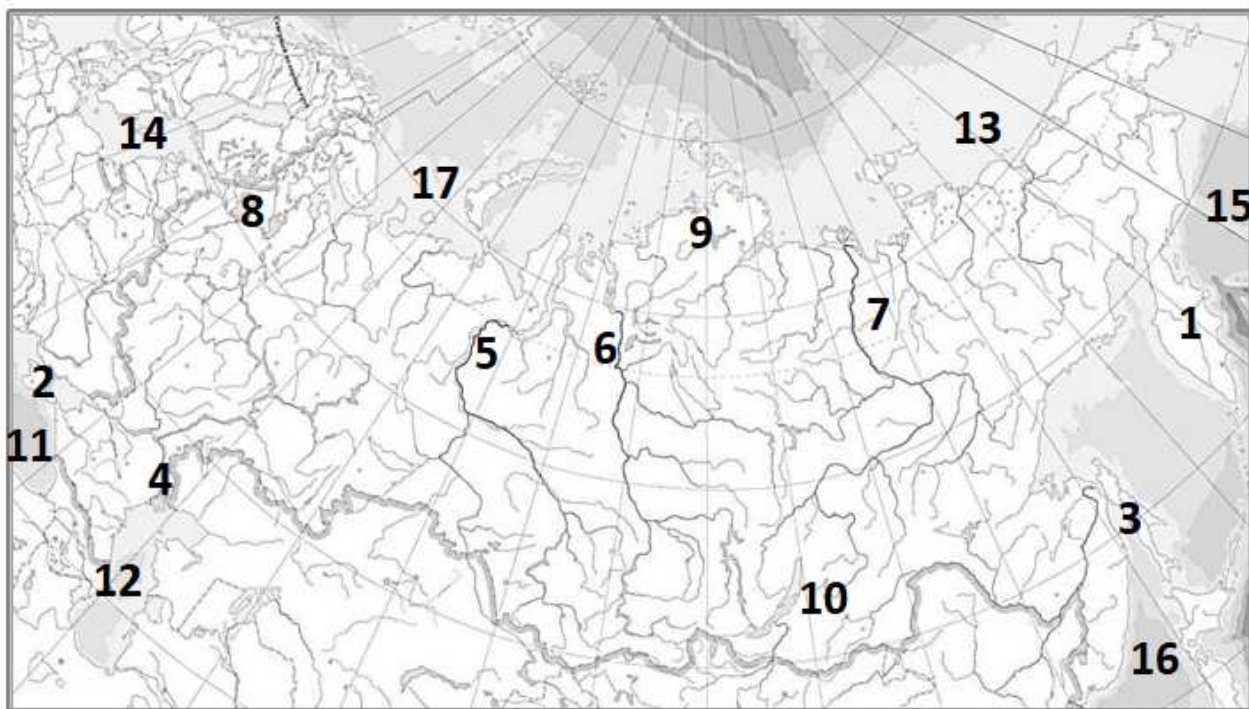


9	10	11	12	13	14	15

Задание 2. (15 баллов)

Перед вами контурная карта России. В соответствии с заданием укажите названия некоторых географических объектов, обозначенных цифрами, а также укажите числа, которыми обозначены отдельные географические объекты нашей страны.



1– полуостров _____

2– полуостров _____

3– остров _____

Река Лена – _____

Река Енисей – _____

Река Волга – _____

Река Обь – _____

Озеро Байкал – _____

Ладожское озеро – _____

Каспийское море – _____

Восточно-Сибирское море – _____

Балтийское море – _____

Японское море – _____

Берингово море – _____

Чёрное море – _____

Задание 3. (4 балла)

Вашему вниманию предлагаются вопросы и задания, связанные с Калининградской областью.

1) Перечислите названия океанов по мере их удалённости от Калининграда (начав с ближнего). _____

2) Почему деревья на Куршской косе наклонены с запада на восток? _____

3) Назовите две страны, которые нужно пересечь, чтобы доехать из Калининграда до Смоленской области – ближайшей к нашему региону области Российской Федерации (на московском направлении). _____

4) С какой страной Калининградская область граничит на юге? _____

Задание 4. (11 баллов)

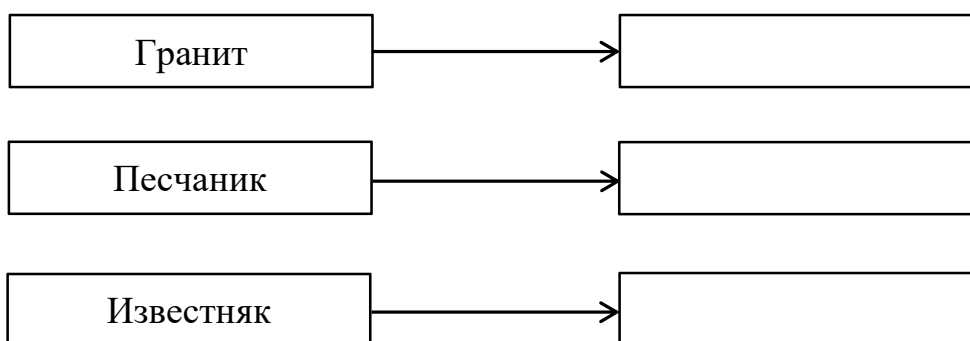
Заполните пустые ячейки порядковыми номерами горных пород из списка в соответствии с их происхождением.

Магматические		Осадочные			Метаморфические
Глубинные	Излившиеся	Неорганические		Органические	
		Обломочные	Химические		

1. Гнейс
2. Торф
3. Каменный уголь
4. Гранит
5. Песок
6. Известняк
7. Мрамор
8. Глина

9. Кварцит
10. Пемза
11. Гипс
12. Базальт
13. Щебень
14. Поваренная соль
15. Галька
16. Горючие сланцы

Дополните схемы, отразив особенности образования метаморфических горных пород.



Задание 5. (3 балла)

1) Мореплаватели, встречая на пути айсберги, часто замечали, что они плыли против ветра. Чем можно объяснить это явление?

2) Южные Шетландские острова – это группа вулканических островов в проливе Дрейка, близ Антарктического полуострова. Большая часть их поверхности покрыта льдом и снегом. В 1773 году Джеймс Кук поведал миру об айсбергах чёрного цвета, которые он увидел вблизи этого архипелага. Объясните причину появления таких айсбергов. _____

Задание 6. (6 баллов)

Ниже приводятся стихотворные строки А.Усачева, И.Данилова, А.Шауки (египетский поэт), С.Беляева. Некоторые географические названия пропущены (напечатана линия). Напишите эти слова. Обратите внимание: строки должны рифмоваться.

- 1) Есть в Южной Америке горы-гиганты.
Они называются коротко – _____.
- 2) На Земле нет выше места,

Чем вершина _____.
Заберись на _____ –
И увидишь всё окрест.

- 3) В ожерелье снежных сопок,
В алом зареве рябин,
На заре российских тропок
Распростёрся _____.
Продуваемый норд-остом,
С горьким запахом волны,
Распростёрся чудо-остров
На четыре стороны...
- 4) Как сладость надежды, нам влага его дорога.
Как амбра, смуглы и душисты его берега.
Пусть мутен и глинист – он райские реки затмил,
Святой, полноводный, извечный кормилец наш _____.
- 5) Известно всем: есть мыс Лопатка
На полуострове _____.
- 6) Взревел мотор... Лечу под облаками.
А под крылом родного края ширь:
То синими целинными полями,
То белыми Саянскими хребтами
Меня встречает вешняя _____.

География. 7 класс.

Ответы к заданиям олимпиады и критерии проверки

1.

Вопрос	1	2	3	4	5	6	7	8
Ответ	б	г	а	б	в	б	в	г

9	10	11	12	13	14	15
а	а	б	а	г	в	в

Количество баллов –15

2.

1– полуостров Камчатка2– полуостров Крым3– остров СахалинРека Лена –7Река Енисей –6Река Волга –4Река Обь – 5Озеро Байкал – 10Ладожское озеро –8Каспийское море – 12Восточно-Сибирское море – 13Балтийское море – 14Японское море – 16Берингово море – 15Чёрное море – 11

Количество баллов – 15

3.

1) Атлантический, Северный Ледовитый, Индийский, Тихий

2) Наклон деревьев зависит от преобладающих ветров – западных.

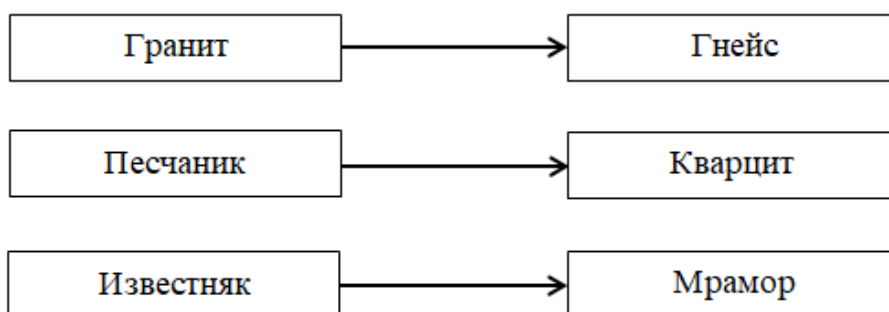
3) Литва, Белоруссия

4) Польша

Количество баллов – 4 (в третьей части задания – по 0,5 балла за указание каждой страны)

4.

Магматические		Осадочные			Метаморфические
Глубинные	Излившиеся	Неорганические		Органические	
		Обломочные	Химические		
4	10, 12	5, 8, 13, 15	11, 14	2, 3, 6, 16	1, 7, 9



Количество баллов – 11 (по 0,5 балла – за каждое правильно внесённое в ячейку число, по 1 баллу – за каждую правильно указанную в схемах горную породу)

5.

1) Лишь 1/7 часть айсберга возвышается над водой. Поэтому огромная подводная часть айсберга оказывается под влиянием течения, а меньшая, видимая, – под влиянием ветра. Если направление течения противоположно направлению ветра, то айсберг будет двигаться по течению, то есть против ветра

2) Ледники на этих островах покрыты толстым слоем вулканического пепла.

Количество баллов – 3 (Максимальное количество баллов за первую часть задания – 2, за вторую часть – 1)

6.

1) Анды, 2) Эверест, 3) Сахалин, 4) Нил, 5) Камчатка, 6) Сибирь.

Количество баллов – 6

Максимальное количество баллов – 54