

7. В какой стране находится город Оденсе, в котором открыт дом-музей Г.Х.Андерсена?

- а) Швеция б) Норвегия в) Дания г) Германия

8. Какова высота Эвереста?

- а) 9949 м б) 8848 м в) 7747 м г) 6646 м

9. Как называется самый большой остров?

- а) Исландия б) Новая Гвинея
в) Мадагаскар г) Гренландия

10. В какой стране находится резиденция Санта-Клауса?

- а) Исландия б) Финляндия в) Швеция г) Норвегия

11. Что изучают сейсмологи?

- а) ураганы б) землетрясения в) ледники г) озёра

12. Какой объект Всемирного наследия находится не на территории России?

- а) вулканы Камчатки б) погост Кижи
в) озеро Байкал г) мавзолей Тадж-Махал

13. Какой газ занимает наибольший объём в составе воздуха?

- а) кислород б) углекислый газ в) азот г) водород

14. Песцы и лемминги обитают:

- а) в тайге б) в степи
в) в тундре г) в арктической пустыне

15. В какую из стран ты сможешь попасть, если поедешь на юг Европы?

- а) в Грецию б) в Финляндию
в) в Швейцарию г) в Великобританию

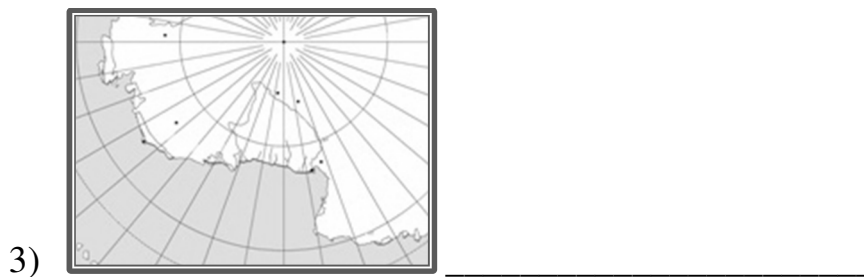
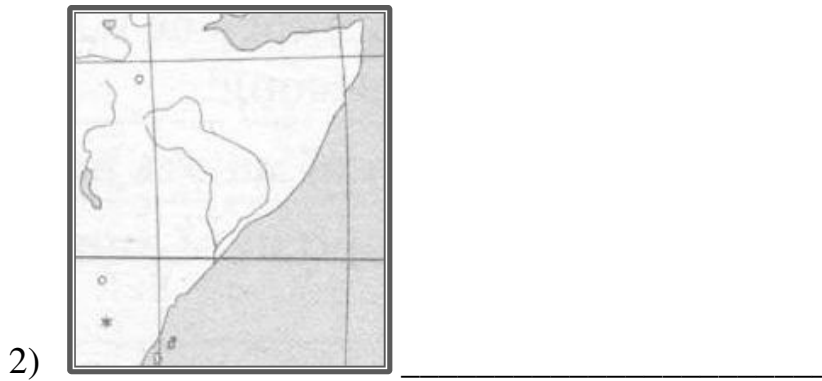
Внесите буквы ответов в таблицу:

Вопрос	1	2	3	4	5	6	7	8
Ответ								

9	10	11	12	13	14	15

Задание 2. (5 баллов)

Узнайте материики по фрагментам контурных карт.



Задание 3. (5 баллов)

Вашему вниманию предлагаются вопросы и задания, связанные с Калининградской областью.

1) Перечислите названия океанов по мере их удалённости от Калининграда (начав с ближнего). _____

2) Как называют породу, содержащую янтарь, – жёлтая земля, голубая земля или чёрная земля? _____

3) Почему деревья на Куршской косе наклонены с запада на восток? _____

4) Назовите две страны, которые нужно пересечь, чтобы доехать из Калининграда до Смоленской области – ближайшей к нашему региону области Российской Федерации (на московском направлении). _____

5) С какой страной Калининградская область граничит на юге? _____

Задание 4. (15 баллов)

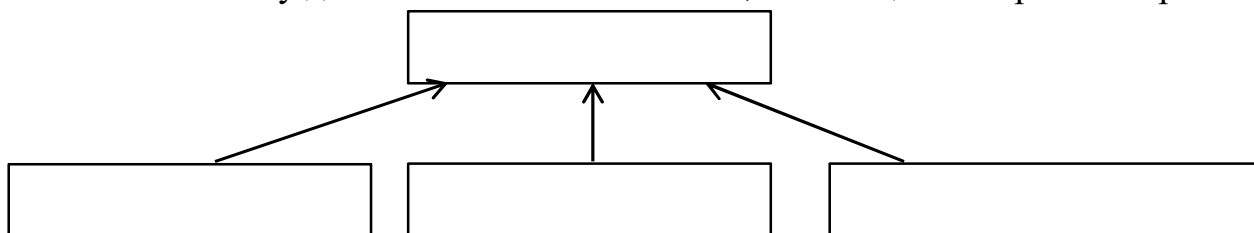
К каким полезным ископаемым относится информация? В качестве ответов укажите их порядковые номера.

1. Железная руда
2. Торф
3. Нефть
4. Гранит
5. Песок
6. Известняк

Информация о полезных ископаемых:

- 1) Состоит из трёх минералов. _____
- 2) Являются горючими, используются как топливо. _____
- 3) Из этого полезного ископаемого выплавляют чугун, сталь. _____
- 4) Используется в качестве удобрения, подстилки в животноводстве. _____
- 5) Используется для получения бензина. _____
- 6) Его образование связано со скелетами, раковинами морских организмов. _____
- 7) Состоит из кальцита. _____
- 8) Его образование и добыча связаны с болотами. _____
- 9) Является обломочной осадочной горной породой. _____
- 10) При изменении физико-химических условий превращается в мрамор. _____

Заполните схему для полезного ископаемого, состоящего из трёх минералов:




Задание 5. (10 баллов)

Ответьте на вопросы о материках и океанах.

- 1) Какой океан самый глубокий? _____
- 2) Какой материк был открыт позже других материков? _____
- 3) На каком материке расположена Индия? _____
- 4) Какой материк самый сухой? _____
- 5) Моря какого океана омывают берега России на востоке? _____
- 6) На каком материке расположена Бразилия? _____
- 7) Какой материк омывают все четыре океана? _____
- 8) Возле берегов какого материка находится остров Мадагаскар? _____
- 9) На каком материке обитает коала? _____
- 10) На каком материке находится Канада? _____

Задание 6. (10 баллов)

1) Подпишите на схематическом рисунке названия планет Солнечной системы.



2) Определите небесные тела по описаниям.

А) Открытие этого небесного тела состоялось в 1930 г., тогда же ему было дано название в честь греческого божества, владыки подземного мира. До 2006 г. считалось самой маленькой планетой Солнечной системы. Ныне это небесное тело относится к классу планет-карликов. _____

Б) Появление этих небесных тел на небосводе в древности очень пугало людей. Сегодня известно, что эти небесные тела движутся по вытянутым орбитам, то приближаясь к Солнцу, то удаляясь от него. Главная часть этого небесного тела – твёрдое ядро диаметром от 1 до 10 км, состоящее из льда, замёрзших газов и твёрдых частичек некоторых других веществ. Хвост этого небесного тела может вытягиваться на миллионы километров. _____

География. 6 класс.

Ответы к заданиям олимпиады и критерии проверки

1.

Вопрос	1	2	3	4	5	6	7	8
Ответ	а	б	а	г	б	г	в	б

9	10	11	12	13	14	15
г	б	б	г	в	в	а

Количество баллов –15

2.

1) Южная Америка; 2) Африка; 3) Антарктида; 4) Австралия; 5) Северная Америка.

Количество баллов – 5

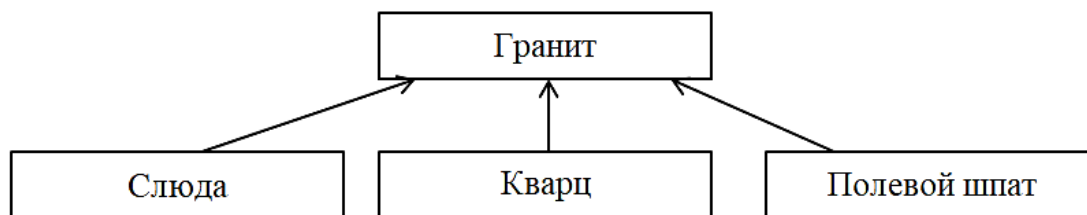
3.

- 1) Атлантический, Северный Ледовитый, Индийский, Тихий
- 2) Голубая земля
- 3) Наклон деревьев зависит от преобладающих ветров – западных.
- 4) Литва, Белоруссия
- 5) Польша

Количество баллов – 5 (в четвёртой части задания – по 0,5 балла за указание каждой страны)

4.

- 1) 4
- 2) 2, 3
- 3) 1
- 4) 2
- 5) 3
- 6) 6
- 7) 6
- 8) 2
- 9) 5
- 10) 6



Количество баллов –15

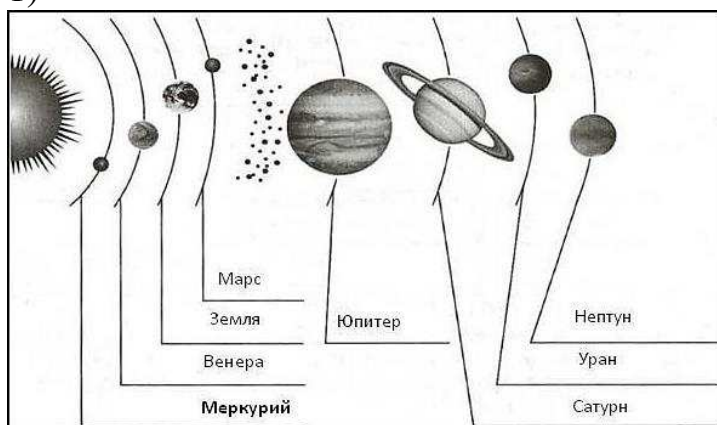
5.

- 1) Тихий
- 2) Антарктида
- 3) Евразия
- 4) Австралия
- 5) Тихий
- 6) Южная Америка
- 7) Евразия
- 8) Африка
- 9) Австралия
- 10) Северная Америка

Количество баллов – 10

6.

1)



2)

- А) Плутон
- Б) Комета

Количество баллов –10

Максимальное количество баллов – 60