



8. Какой газ занимает наибольший объём в составе воздуха?

- а) кислород                      б) углекислый газ                      в) азот                      г) водород

9. Что изучают сейсмологи?

- а) ураганы                      б) землетрясения                      в) ледники                      г) озёра

10. В какой стране находится резиденция Санта-Клауса?

- а) Исландия                      б) Финляндия                      в) Швеция                      г) Норвегия

11. Что в переводе с греческого языка означает слово «география»?

- а) «землеописание»                      б) «изучение Земли»  
в) «изучение природы»                      г) «описание природы»

12. Какой объект Всемирного наследия находится не на территории России?

- а) вулканы Камчатки                      б) погост Кижи  
в) озеро Байкал                      г) мавзолей Тадж-Махал

13. Какую достопримечательность можно увидеть в городе, основанном Петром Первым?

- а) Царь-колокол  
б) памятник «Медный всадник»  
в) Собор Василия Блаженного  
г) Третьяковскую галерею

14. Какая достопримечательность находится в Италии?

- а) Лувр                      б) Версаль  
в) Эйфелева башня                      г) Пизанская башня

15. В какую из стран ты сможешь попасть, если поедешь на юг Европы?

- а) в Грецию                      б) в Финляндию  
в) в Швейцарию                      г) в Великобританию

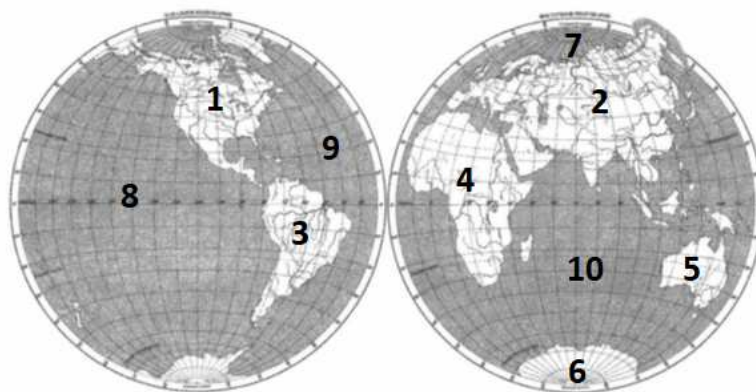
Внесите буквы ответов в таблицу:

<b>Вопрос</b>	<b>1</b>	<b>2</b>	<b>3</b>	<b>4</b>	<b>5</b>	<b>6</b>	<b>7</b>	<b>8</b>
<b>Ответ</b>								

<b>9</b>	<b>10</b>	<b>11</b>	<b>12</b>	<b>13</b>	<b>14</b>	<b>15</b>

### Задание 2. (12 баллов)

Ответьте на вопросы. В качестве ответов укажите номера материков и океанов, указанные на картосхеме.



- 1) Какой океан самый глубокий? \_\_\_\_\_
- 2) Какой материк был открыт позже других материков? \_\_\_\_\_
- 3) На каком материке расположена Индия? \_\_\_\_\_
- 4) Какие океаны омывают берега России? \_\_\_\_\_
- 5) Бóльшая часть какого океана расположена в Южном полушарии? \_\_\_\_\_
- 6) На каком материке расположена Бразилия? \_\_\_\_\_
- 7) Какой океан самый холодный? \_\_\_\_\_
- 8) Возле берегов какого материка находится остров Мадагаскар? \_\_\_\_\_
- 9) Какой материк самый жаркий? \_\_\_\_\_
- 10) На каком материке расположено государство США? \_\_\_\_\_

### Задание 3. (4 балла)

Вашему вниманию предлагаются вопросы и задания, связанные с Калининградской областью.

- 1) Перечислите названия океанов по мере их удалённости от Калининграда (начав с ближнего). \_\_\_\_\_  
\_\_\_\_\_
- 2) Как называют породу, содержащую янтарь, – жёлтая земля, голубая земля или чёрная земля? \_\_\_\_\_
- 3) Почему деревья на Куршской косе наклонены с запада на восток? \_\_\_\_\_  
\_\_\_\_\_
- 4) Назовите две страны, которые нужно пересечь, чтобы доехать из Калининграда до Смоленской области – ближайшей к нашему региону области Российской Федерации (на московском направлении). \_\_\_\_\_  
\_\_\_\_\_

### Задание 4. (13 баллов)

К каким полезным ископаемым относится информация? В качестве ответов укажите их порядковые номера.

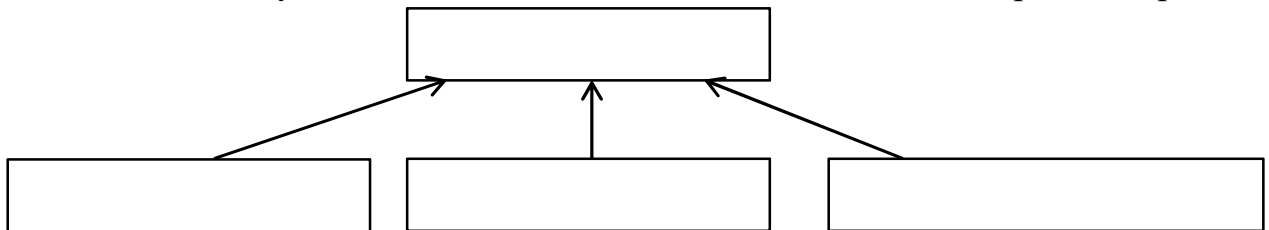
1. Железная руда

2. Торф
3. Нефть
4. Гранит
5. Кварцевый песок
6. Известняк

Информация о полезных ископаемых:

- 1) Состоит из трёх минералов. \_\_\_\_\_
- 2) Являются горючими, используются как топливо. \_\_\_\_\_
- 3) Из этого полезного ископаемого выплавляют чугун, сталь. \_\_\_\_\_
- 4) Используется в качестве удобрения, подстилки в животноводстве. \_\_\_\_\_
- 5) Используется для получения бензина. \_\_\_\_\_
- 6) Его образование связано со скелетами, раковинами морских организмов. \_\_\_\_\_
- 7) Используется для изготовления стекла. \_\_\_\_\_
- 8) Его образование и добыча связаны с болотами. \_\_\_\_\_

Заполните схему для полезного ископаемого, состоящего из трёх минералов:



### Задание 5. (2 балла)

Определите природные зоны по описаниям.

1) Здесь много солнца, жаркое продолжительное лето, короткая зима, богатые перегноем почвы. Летом выпадает мало осадков, бывают божовиства растений длинные ветвистые корни, которыми они добывают воду в глубоких слоях почвы; узкие листья, помогающие экономнее расходовать влагу. К таким растениям относится ковыль, который цветёт летом. Весной, когда влаги в почве достаточно, расцветают тюльпаны, ирисы, гиацинты, которые запасли питательные вещества в луковицах. В это время тут необыкновенно красиво.

Животным приходится жить в условиях открытой местности и травяного покрова. Для этой зоны характерны розовый скворец, дрофа, сурок, суслик, сайгак, заяц-русак.

Эта природная зона сильно изменена человеком, который выращивает здесь пшеницу, кукурузу, подсолнечник и другие важные культуры. \_\_\_\_\_

2) Уже в сентябре здесь начинается зима: падает снег, крепчают морозы. Дуют сильные ветры. К середине зимы наступает полярная ночь. Неделями бушуют вьюги. Сильный холод сковывает природу.

Наконец начинается короткое и прохладное лето. Круглые сутки солнце не заходит за линию горизонта. За это время оттаивает только верхний слой многолетнемерзлых пород.

Растения здесь низкорослые и с мелкими листьями, многие растут группами и стелются по земле. Корни находятся в верхнем слое почвы. Типичны карликовая берёза, полярная ива, морошка, голубика, брусника. В болотистых местах растёт мох, большие площади покрыты лишайниками, среди которых очень распространён ягель.

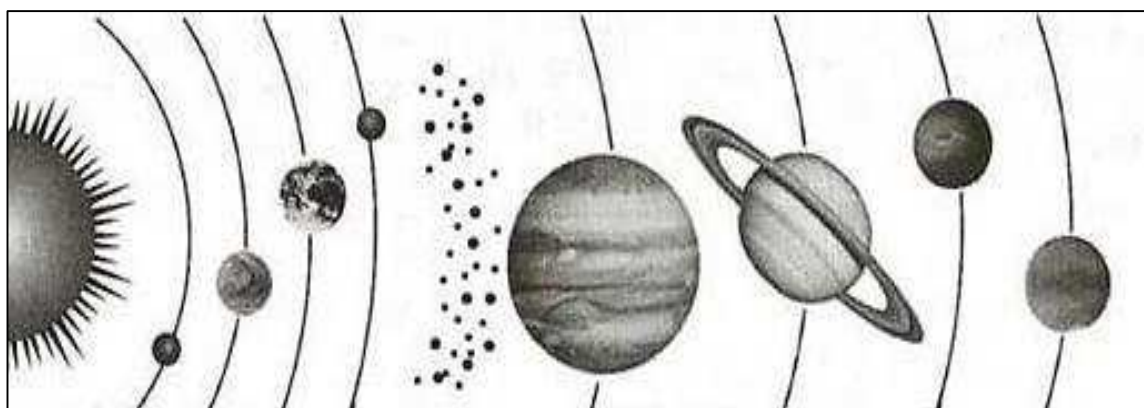
Густая шерсть зверей, пушистое оперение птиц спасает их от суровых морозов. Светлая окраска зимой делает их незаметными на снегу.

Летом тучами носятся в воздухе комары и мошки. Птицы спешат вырастить птенцов, ведь вскоре они полетят в тёплые края. Полярные совы и куропатки останутся тут зимовать. Для этой зоны характерны также грызуны лемминги, песцы, северные олени.

---

### Задание 6. (8 баллов)

Подпишите на схематическом рисунке названия планет Солнечной системы.



## Ответы к заданиям олимпиады и критерии проверки

**1.**

<b>Вопрос</b>	<b>1</b>	<b>2</b>	<b>3</b>	<b>4</b>	<b>5</b>	<b>6</b>	<b>7</b>	<b>8</b>
<b>Ответ</b>	в	б	г	б	а	б	в	в

<b>9</b>	<b>10</b>	<b>11</b>	<b>12</b>	<b>13</b>	<b>14</b>	<b>15</b>
б	б	а	г	б	г	а

**Количество баллов –15**

**2.**

- 1) 8
- 2) 6
- 3) 2
- 4) 7, 8, 9
- 5) 10
- 6) 3
- 7) 7
- 8) 4
- 9) 4
- 10) 1

**Количество баллов – 12**

**3.**

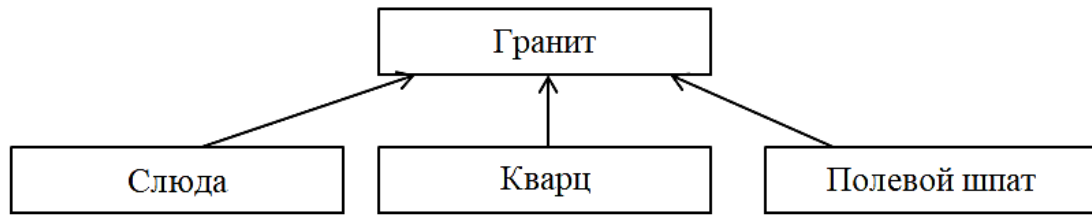
- 1) Атлантический, Северный Ледовитый, Индийский, Тихий
- 2) Голубая земля
- 3) Наклон деревьев зависит от преобладающих ветров – западных.
- 4) Литва, Белоруссия

**Количество баллов – 4** (в четвёртой части задания – по 0,5 балла за указание каждой страны)

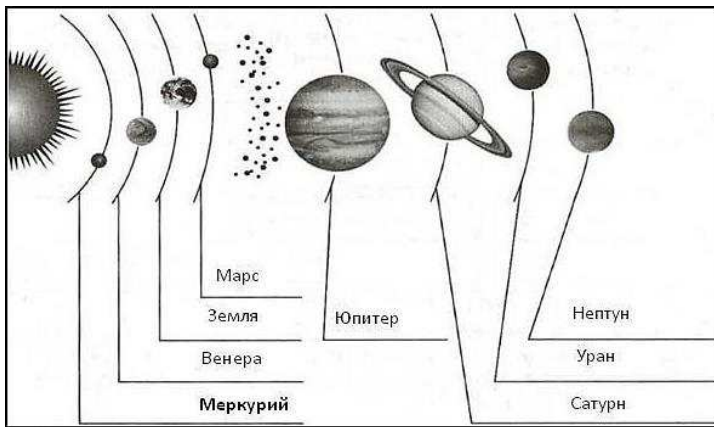
**4.**

- 1) 4
- 2) 2, 3
- 3) 1
- 4) 2
- 5) 3
- 6) 6
- 7) 5

8) 2

**Количество баллов – 13****5.**

- 1) Степь
- 2) Тундра

**Количество баллов – 2****6.****Количество баллов – 8****Максимальное количество баллов – 54**